

# Werkblad: een route uitstippelen met het openbaar vervoer

## Opdracht 1: vul in.

Naam leerling: \_\_\_\_\_

Adres leerling:

    Straat + huisnummer : \_\_\_\_\_

    Postcode + gemeente: \_\_\_\_\_

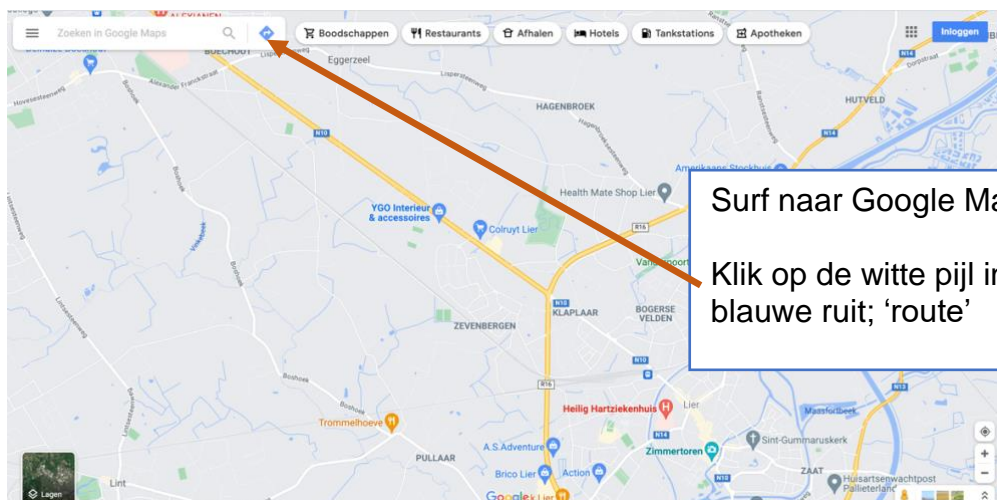
Naam school: \_\_\_\_\_

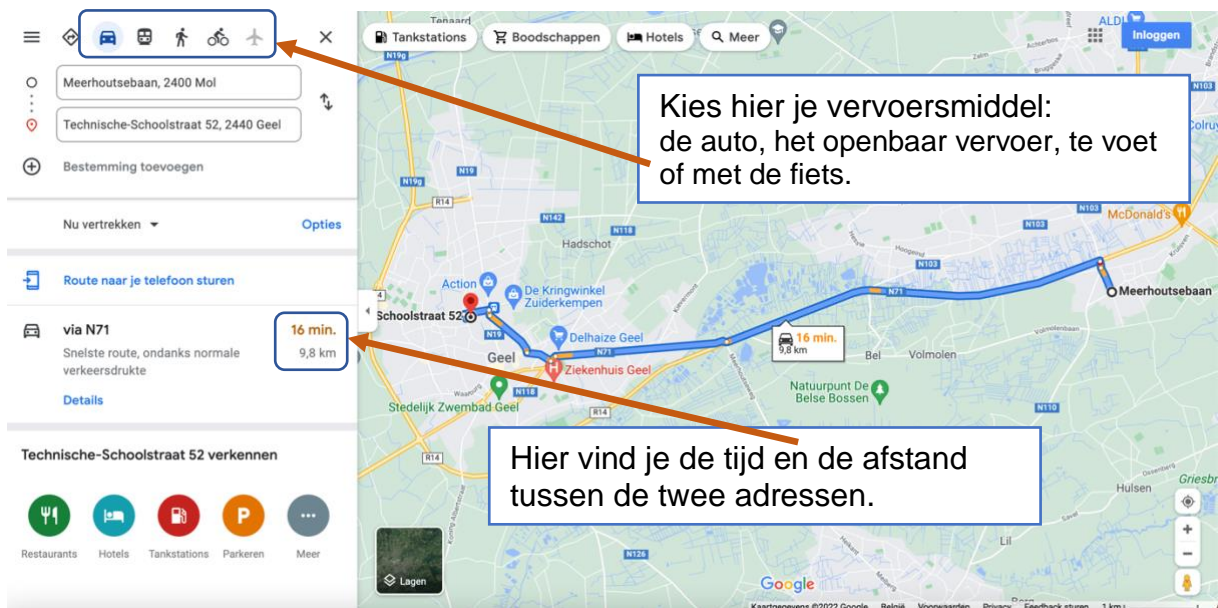
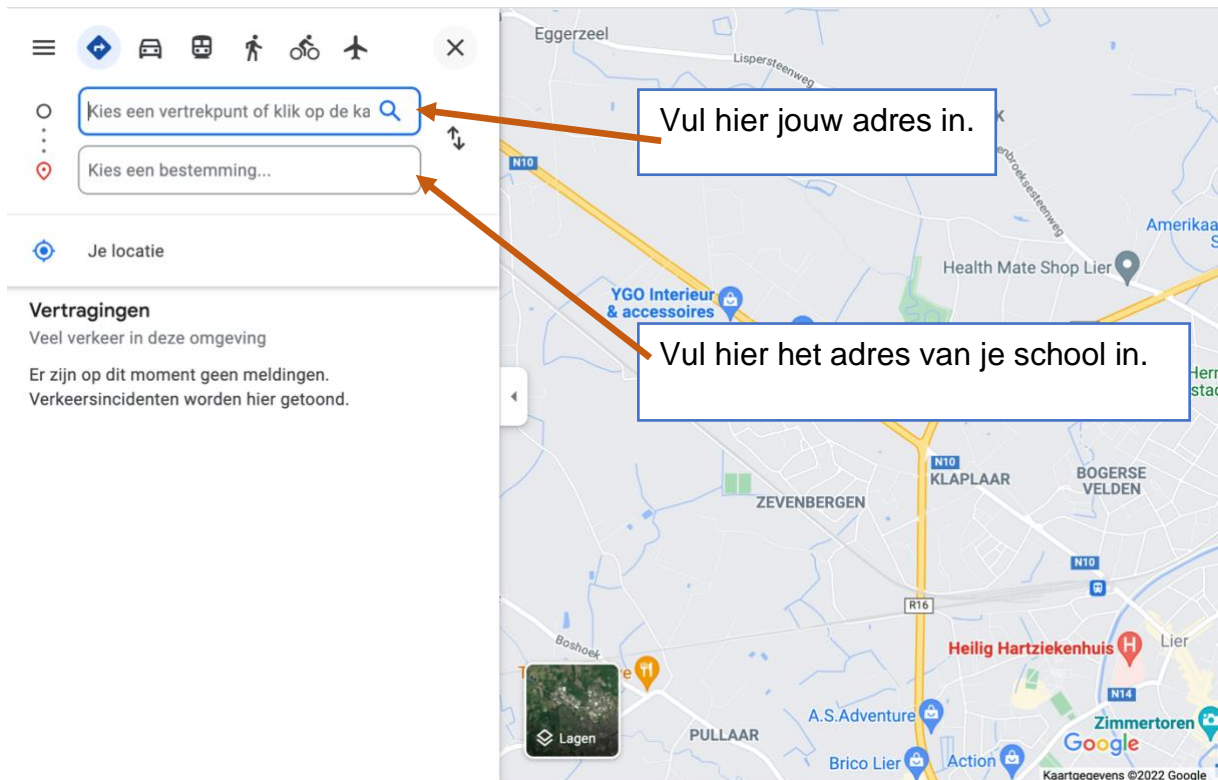
Adres school:

    Straat + huisnummer : \_\_\_\_\_

    Postcode + gemeente: \_\_\_\_\_

## Opdracht 2: zoek de afstand en de tijd tussen de adressen uit opdracht 1 op.





Wat is de **afstand** en **reistijd** tussen jouw woning en jouw school...

- ... als je te voet gaat? \_\_\_\_\_ km en \_\_\_\_ uur \_\_\_\_ minuten
- ... als je met de fiets gaat? \_\_\_\_\_ km en \_\_\_\_ uur \_\_\_\_ minuten
- ... als je het openbaar vervoer neemt? \_\_\_\_\_ km en \_\_\_\_ uur \_\_\_\_ minuten
- ... als je met de auto gaat? \_\_\_\_\_ km en \_\_\_\_ uur \_\_\_\_ minuten

### Opdracht 3: help Mustafa op zijn bestemming te komen.

Mustafa is 17 jaar en woont in het L.O.I. in Geel. Het adres is Technische Schoolstraat 41, 2440 Geel. Mustafa heeft een studentenjob gevonden. Hij doet elke zaterdag de afwas in restaurant 'Het Keteltje'. Het adres van het restaurant is Olenseweg 79, 2440 Geel.

- Welke bus kan Mustafa nemen? \_\_\_\_\_
- Waar vertrekt de bus? \_\_\_\_\_
- Welke halte moet Mustafa afstappen? \_\_\_\_\_

Mustafa moet soms laat werken. Dan rijdt de bus niet meer. Hij heeft geen rijbewijs.

Hoe gaat Mustafa het best naar zijn werk? \_\_\_\_\_

Mustafa wil in de zomervakantie nog twee weken werken. Hij vindt een studentenjob in zwembad Het Netepark in Herentals. Hij werkt niet in het weekend. Hij start om 10 uur. Het adres van het zwembad is Vorselaarsebaan 56, 2200 Herentals.



Hoe lang is Mustafa onderweg met de trein? \_\_\_\_\_ minuten

Hoe lang duurt het wanneer hij de bus neemt? \_\_\_\_\_ minuten

Mustafa neemt de trein. Hoe laat moet hij 's morgens de trein nemen? \_\_\_\_\_

Mustafa moet nog \_\_\_\_\_ minuten stappen van het station in Herentals tot aan het zwembad.

